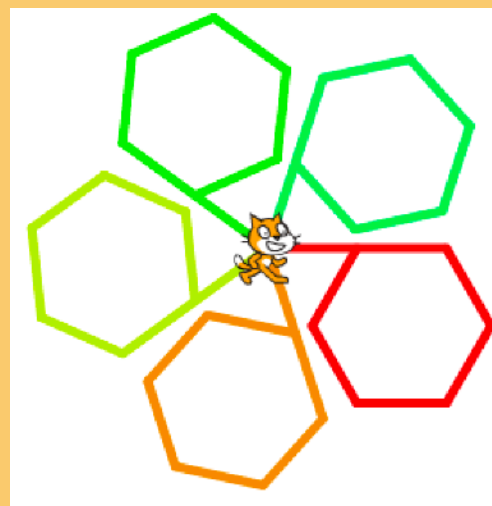


Une équipe pédagogique regroupée autour d'un objectif : adapter les enseignements à tous et pour tous.



Des travaux collaboratifs pour motiver et inspirer les élèves



Une heure par semaine d'accompagnement personnalisé avec deux enseignants pour permettre à chacun de mieux comprendre ou d'approfondir les notions abordées en cours

Usage du numérique pour tous à travers scratch dès la sixième

Les mathématiques à Schuman



Les mathématiques par le jeu :

Une façon d'appréhender les concepts de manière ludique

Un moment de partage et d'échanges entre les élèves

Division euclidienne
division décimale

dividende
diviseur
quotient

dividende = diviseur x quotient

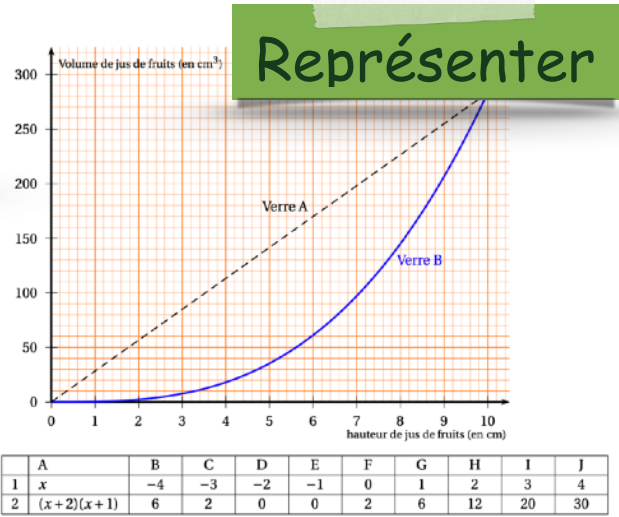
2 3 5 9 10
Un nombre entier

divisible?

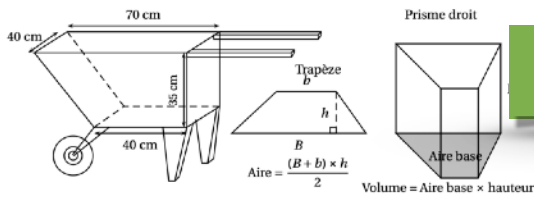
Multiplies
105 : 7 = 15

Diviseurs
105 : 7 = 15

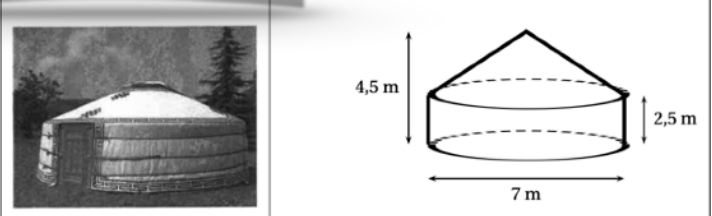
Calculer



Un apprentissage par compétences



Modéliser



Communiquer



Raisonner

Calculer la longueur AC

Le triangle ABC est rectangle en B.

Le Théorème de Pythagore nous dit

$$AB^2 + BC^2 = AC^2$$

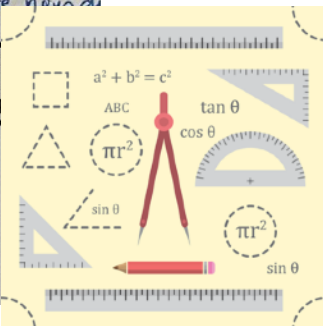
$$4^2 + 6^2 = AC^2$$

$$16 + 36 = AC^2$$

$$52 = AC^2$$

$$AC = \sqrt{52}$$

la longueur AC est $AC \approx 7,21$



Chercher

